

เอกสารประกอบการเรียนการสอนแบบสื่อ Electronics  
หลักสูตรท้องถิ่น “เมืองเชียงราย” สำหรับผู้เรียนชั้นประถมศึกษาปีที่ ๖

เล่มที่  
๓

การเมืองการปกครองของจังหวัดเชียงราย



สำนักงานศึกษาธิการจังหวัดเชียงราย

สำนักงานปลัดกระทรวงศึกษาธิการ กระทรวงศึกษาธิการ

เอกสารประกอบการเรียนการสอนแบบสื่อ Electronics  
หลักสูตรท้องถิ่น “เมืองเชียงราย” สำหรับผู้เรียนชั้นประถมศึกษาปีที่ ๖

เล่มที่ ๓

เรื่อง การเมืองการปกครองของจังหวัดเชียงราย

สำนักงานศึกษาธิการจังหวัดเชียงราย  
สำนักงานปลัดกระทรวงศึกษาธิการ กระทรวงศึกษาธิการ

## คำนำ

เอกสารประกอบการเรียนการสอนแบบสื่อ Electronics หลักสูตรท้องถิ่น “เมืองเชียงราย” สำหรับผู้เรียนชั้นประถมศึกษาปีที่ ๖ สำนักงานศึกษาธิการจังหวัดเชียงราย ได้จัดทำขึ้น มีความประสงค์ให้ผู้เรียน หรือเยาวชนในจังหวัดเชียงราย ได้มีความรู้ ความเข้าใจ และทราบถึงประวัติความเป็นมา พื้นฐานบรรพบุรุษของชาวเชียงราย เพื่อเยาวชนของจังหวัด เชียงรายเกิดความรัก ความสามัคคี และหวงแหนถิ่นกำเนิดของตนเอง เกิดการรวมพลังอันจะ นำไปสู่การพัฒนา การดำรงรักษาและสร้างสรรค์วัฒนธรรมให้เป็นสมบัติสืบทอดสู่ลูกหลานต่อไป

สำหรับเอกสารประกอบการเรียนการสอนแบบสื่อ Electronics หลักสูตรท้องถิ่น “เมืองเชียงราย” สำหรับผู้เรียนชั้นประถมศึกษาปีที่ ๖ เล่มที่ ๓ การเมืองการปกครองของ จังหวัดเชียงรายนี้ จะกล่าวถึง สัญลักษณ์ประจำจังหวัดเชียงราย หน่วยการปกครองของจังหวัด เชียงราย ซึ่งสำนักงานศึกษาธิการจังหวัดเชียงราย โดยคณะศึกษานิเทศก์ และบุคลากร ที่เกี่ยวข้องของสำนักงานศึกษาธิการจังหวัดเชียงราย ได้ระดมความรู้ ความมุ่งมั่น เพื่อที่จะให้ การดำเนินการในครั้งนี้ประสบความสำเร็จ และให้เอกสารชุดนี้ มีความสมบูรณ์ น่าสนใจ น่าอ่าน และนำศึกษาเรียนรู้มากยิ่งขึ้น จึงได้ศึกษาค้นคว้ารายละเอียด เนื้อหา สารระที่เกี่ยวข้อง กับจังหวัดเชียงราย จากตำรา และเอกสารที่สามารถอ้างอิง เชื่อถือได้ นำมาเรียบเรียงเป็น เอกสารประกอบการเรียนการสอน แบบสื่อ Electronics ที่มีภาพประกอบเรื่องราวในเอกสาร แต่ละเล่ม ที่สอดคล้องและสามารถสื่อความหมาย ความสำคัญกับเรื่องราว และเหตุการณ์ต่าง ๆ พร้อมกับแบบทดสอบก่อนเรียน – หลังเรียน และแบบฝึกหัด นอกจากนี้ผู้ศึกษาเอกสารชุดนี้ จะได้ศึกษาเรียนรู้เรื่องราวที่เกี่ยวกับจังหวัดเชียงรายแล้ว ยังได้ฝึกทักษะทางการอ่าน การคิดวิเคราะห์ มีนิสัยรักการอ่าน การแสวงหาความรู้ และรักและหวงแหนมรดกที่บรรพบุรุษ ของชาวเชียงรายได้ทิ้งไว้ให้ลูกหลานได้สืบทอดตลอดไป

สำนักงานศึกษาธิการจังหวัดเชียงราย

## คำชี้แจงการใช้เอกสารประกอบการเรียนการสอน แบบสื่อ Electronics หลักสูตรท้องถิ่น “เมืองเชียงราย”

เอกสารประกอบการเรียนการสอนแบบสื่อ Electronics หลักสูตรท้องถิ่น “เมืองเชียงราย” นี้ สำนักงานศึกษาธิการจังหวัดเชียงราย ได้จัดทำขึ้นสำหรับสถานศึกษา ในจังหวัดเชียงราย ที่มีการจัดการเรียนการสอนในระดับชั้นประถมศึกษาปีที่ ๖ ที่มีความสนใจ และมีความประสงค์ที่จะให้ผู้เรียนได้ศึกษาเรียนรู้เรื่องราวเกี่ยวกับจังหวัดเชียงราย ผู้เรียนจะได้ รู้จักจังหวัดเชียงรายได้มากยิ่งขึ้น นอกจากนี้ผู้เรียนได้ฝึกทักษะการอ่าน ผู้เรียนแสดงได้ ความสามารถเพิ่มพูนประสบการณ์ได้ดี และมีประสิทธิภาพยิ่งขึ้น

เอกสารประกอบการเรียนการสอนแบบสื่อ Electronics หลักสูตรท้องถิ่น “เมืองเชียงราย” นี้ มีทั้งหมด ๗ เล่ม/เรื่อง ซึ่งเป็นเนื้อหา สาระที่เกี่ยวข้องกับจังหวัดเชียงราย ทั้งหมด เรียงลำดับเนื้อหาตามลำดับ ได้แก่

- เล่มที่ ๑ ประวัติศาสตร์เมืองเชียงราย
- เล่มที่ ๒ ภูมิศาสตร์จังหวัดเชียงราย
- เล่มที่ ๓ การเมืองการปกครองของจังหวัดเชียงราย
- เล่มที่ ๔ ศิลปวัฒนธรรมประเพณีของจังหวัดเชียงราย
- เล่มที่ ๕ สถานที่สำคัญและแหล่งท่องเที่ยวในจังหวัดเชียงราย
- เล่มที่ ๖ บุคคลสำคัญในจังหวัดเชียงราย
- เล่มที่ ๗ อาชีพสำคัญของประชาชนในจังหวัดเชียงราย

สำหรับเอกสารประกอบการเรียนการสอนแบบสื่อ Electronics หลักสูตรท้องถิ่น “เมืองเชียงราย” เล่มที่ ๓ เรื่อง การเมืองการปกครองของจังหวัดเชียงราย มีเนื้อหาสาระเกี่ยวกับ สัญลักษณ์ประจำจังหวัดเชียงราย และหน่วยการปกครองของจังหวัดเชียงราย ผู้อ่านควรศึกษา คำชี้แจงให้เข้าใจ และปฏิบัติตามขั้นตอนที่ให้ไว้เพื่อการอ่านของท่านจะได้มีประสิทธิผลมากยิ่งขึ้น ดังนี้

๑. ศึกษาจุดประสงค์ให้เข้าใจ
๒. ทำแบบทดสอบเพื่อวัดระดับความรู้ความเข้าใจก่อนเรียนของตนเอง
๓. ศึกษาเนื้อหาสาระในเอกสารประกอบการเรียนการสอนแบบสื่อ Electronics หลักสูตรท้องถิ่น “เมืองเชียงราย” โดยละเอียด ประกอบกับการศึกษาค้นคว้า ในเนื้อหาสาระที่เกี่ยวข้องอื่น
๔. ทำแบบฝึกหัด
๕. เมื่อปฏิบัติครบทุกกิจกรรมแล้ว ทำแบบทดสอบหลังเรียน

## จุดประสงค์การเรียนรู้

๑. รู้และเข้าใจถึงระบบการเมืองการปกครองของจังหวัดเชียงราย
๒. อธิบายเกี่ยวกับการเมืองการปกครองของจังหวัดเชียงรายได้
๓. วิเคราะห์ปัญหาและความสำคัญของการบริหารบ้านเมือง และการปกครองท้องถิ่นของจังหวัดเชียงรายได้




**แบบทดสอบก่อนเรียน**  
**เรื่อง การเมืองการปกครองของจังหวัดเชียงราย**

**คำชี้แจง :** ให้นักเรียนเลือกคำตอบที่ถูกต้องเพียงข้อเดียว แล้วทำเครื่องหมาย ✕ ลงในกระดาษคำตอบให้ตรงกับข้อที่เลือก

๑. จากภาพตราประจำจังหวัดเชียงราย “รูปช้างสีขาวอยู่ใต้เมฆ” มีความหมายว่าอย่างไร
 

- ก. ความเจริญรุ่งเรือง
  - ข. ความอุดมสมบูรณ์
  - ค. ความเข้มแข็ง
  - ง. ความยุติธรรม


  
๒. ข้อใดคือชื่อต้นไม้ประจำจังหวัดเชียงราย
  - ก. ต้นราชพฤกษ์
  - ข. ต้นพวงแสด
  - ค. ต้นกาสะลองคำ
  - ง. ต้นอินทนิล
  
๓. คำใดต่อไปนี้ ไม่ ได้ปรากฏอยู่ในคำขวัญของจังหวัดเชียงราย
  - ก. เหนือสุดในสยาม
  - ข. ชายแดนสามแผ่นดิน
  - ค. ถิ่นวัฒนธรรมล้านนา
  - ง. ล้ำค่าพระตำหนักดอยตุง
  
๔. หน่วยงานใดจัดเป็นการบริหารราชการส่วนท้องถิ่น
 

ก. เทศบาล	ข. อำเภอบ
ค. จังหวัด	ง. กรม
  
๕. ข้อใดไม่ได้ปรากฏในระบบการปกครองส่วนท้องถิ่นของจังหวัดเชียงราย
 

ก. องค์การบริหารส่วนจังหวัด (อบจ.)	ข. องค์การบริหารส่วนตำบล (อบต.)
ค. เทศบาล	ง. อำเภอ

๖. อบจ. ย่อมาจากคำในข้อใด
- ก. เทศบาล
  - ข. สุขาภิบาล
  - ค. องค์การบริหารส่วนตำบล
  - ง. องค์การบริหารส่วนจังหวัด
๗. ข้อใดกล่าวถึงหน่วยการปกครองส่วนภูมิภาค
- ก. เทศบาล
  - ข. จังหวัด
  - ค. องค์การบริหารส่วนตำบล
  - ง. องค์การบริหารส่วนจังหวัด
๘. จังหวัดเชียงรายแบ่งการปกครองออกเป็นกี่อำเภอ
- ก. ๑๖ อำเภอ
  - ข. ๑๗ อำเภอ
  - ค. ๑๘ อำเภอ
  - ง. ๑๙ อำเภอ
๙. ผู้ว่าราชการจังหวัดเชียงรายคนแรก คือใคร
- ก. พระยารัตนอาณาเขต (เจ้าหนานสุริยะ)
  - ข. พระยารัตนอาณาเขต (เจ้าหนานธรรมลังกา)
  - ค. พระยารามราชเดชดำรง (ศุข ดิษยบุตร)
  - ง. นายประจัญ ปรัชญ์สกุล
๑๐. จังหวัดเชียงรายในปัจจุบันแบ่งเขตการเลือกตั้งออกเป็นทั้งหมดกี่เขต
- ก. ๕ เขต
  - ข. ๖ เขต
  - ค. ๗ เขต
  - ง. ๘ เขต

**เฉลยแบบทดสอบก่อนเรียน**  
**เรื่อง การเมืองการปกครองของจังหวัดเชียงราย**

ข้อที่ ๑	คำตอบ คือ	ข้อ ก.
ข้อที่ ๒	คำตอบ คือ	ข้อ ค.
ข้อที่ ๓	คำตอบ คือ	ข้อ ง.
ข้อที่ ๔	คำตอบ คือ	ข้อ ก.
ข้อที่ ๕	คำตอบ คือ	ข้อ ง.
ข้อที่ ๖	คำตอบ คือ	ข้อ ง.
ข้อที่ ๗	คำตอบ คือ	ข้อ ข.
ข้อที่ ๘	คำตอบ คือ	ข้อ ค.
ข้อที่ ๙	คำตอบ คือ	ข้อ ข.
ข้อที่ ๑๐	คำตอบ คือ	ข้อ ค.





เนื้อหา	หน้า
คำนำ	ก
คำชี้แจง	ข
จุดประสงค์การเรียนรู้	ค
แบบทดสอบก่อนเรียน	ง-ฉ
สารบัญ	ช
สัญลักษณ์ประจำจังหวัดเชียงราย	๑
- ตราประจำจังหวัดเชียงราย	๑
- ธงประจำจังหวัดเชียงราย	๒
- ต้นไม้ประจำจังหวัดเชียงราย	๒
- ดอกไม้ประจำจังหวัดเชียงราย	๓
- คำขวัญจังหวัดเชียงราย	๓
หน่วยการปกครองของจังหวัดเชียงราย	๔
- รูปแบบการปกครองของจังหวัดเชียงราย	๔
- การปกครองส่วนภูมิภาคจังหวัดเชียงราย	๕
- การปกครองส่วนท้องถิ่นจังหวัดเชียงราย	๗
- รายชื่อเจ้าเมืองและผู้ว่าราชการจังหวัดเชียงราย	๘
- การเมืองของจังหวัดเชียงราย	๑๐
- การเลือกตั้งของจังหวัดเชียงราย	๑๑
- ประชากรจังหวัดเชียงราย	๑๒
บรรณานุกรม	๑๓
ภาคผนวก	๑๕
- แบบฝึกหัด	๑๖
- แบบทดสอบหลังเรียน	๑๘

## บรรณานุกรม



## บรรณานุกรม

เผด็จ เอมวงศ์. **การเมืองการปกครองของไทย**. กรุงเทพมหานคร : เอมพันธ์, ๒๕๕๖.

วิกิพีเดีย สารานุกรมเสรี. **รัฐธรรมนูญแห่งราชอาณาจักรไทย**. (ออนไลน์). แหล่งที่มา.  
<http://th.wikipedia.org/>. ๒๕๕๔.

\_\_\_\_\_. **องค์การบริหารส่วนจังหวัด**. (ออนไลน์). แหล่งที่มา : <http://th.wikipedia.org/wiki/>. ๒๕๕๔.

\_\_\_\_\_. **องค์การบริหารส่วนตำบล**. (ออนไลน์). แหล่งที่มา : <http://th.wikipedia.org/wiki/>. ๒๕๕๓.

สำนักงานคณะกรรมการการเลือกตั้ง. **วิถีประชาธิปไตยและการเลือกตั้งระบบใหม่**.

กรุงเทพมหานคร : ศูนย์สภาลาดพร้าว, ๒๕๕๓.

สำนักงานการท่องเที่ยวและกีฬา จังหวัดเชียงราย. **การเมืองการปกครอง จังหวัดเชียงราย**.  
 (ออนไลน์). แหล่งที่มา : [http://www.cots.go.th/cr\\_politic.php/](http://www.cots.go.th/cr_politic.php/). ๒๕๕๑.

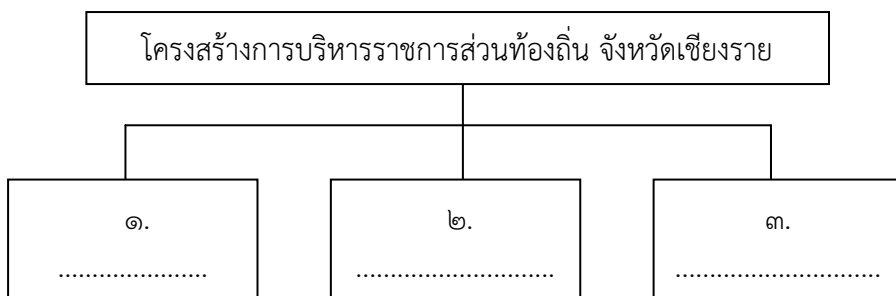
สิวพร สุขเอียด. **การปกครองส่วนท้องถิ่น**. (ออนไลน์). แหล่งที่มา :  
<http://www.thaipoliticsgovernment.org/wiki/>. ๒๕๕๐.

ภาคผนวก



ใบงานที่ ๑

๑. นักเรียนเติมข้อความลงในช่องว่างตามแผนผังความคิดที่กำหนดให้



๒. รูปแบบการปกครองของจังหวัดเชียงรายมีกี่รูปแบบ อะไรบ้าง

.....

.....

.....

.....

.....

.....

.....



## ใบงานที่ ๒

คำชี้แจง ให้นักเรียนตอบคำถามตามหัวข้อที่กำหนด

๑. การแบ่งเขตการเลือกตั้งของจังหวัดเชียงราย แบ่งออกเป็นกี่เขต อะไรบ้าง

	๑. ....	
	๒. ....	
๓. ....	การแบ่งเขตการ เลือกตั้งจังหวัด เชียงราย	๕. ....
๔. ....		๖. ....
	๗. ....	

๒. “อนุชิตเป็นผู้ว่าราชการจังหวัดเชียงรายเขาสั่งให้ตำรวจในพื้นที่ของจังหวัดปฏิบัติหน้าที่อย่างเคร่งครัดตลอดเวลา ๒๔ ชั่วโมง และสั่งให้นายอำเภอช่วยเหลือราษฎรที่ได้รับความเดือดร้อน” จากข้อความดังกล่าวเป็นการปกครองแบบไหน

.....

.....

.....

.....

.....

.....

.....


.....

**แบบทดสอบหลังเรียน**  
**เรื่อง การเมืองการปกครองของจังหวัดเชียงราย**

**คำชี้แจง :** ให้นักเรียนเลือกคำตอบที่ถูกต้องเพียงข้อเดียว แล้วทำเครื่องหมาย ✕ ลงในกระดาษคำตอบให้ตรงกับข้อที่เลือก

๑. จากภาพตราประจำจังหวัดเชียงราย “รูปช้างสีขาวอยู่ใต้เมฆ” มีความหมายว่าอย่างไร
 

- ก. ความเข้มแข็ง
  - ข. ความอุดมสมบูรณ์
  - ค. ความเจริญรุ่งเรือง
  - ง. ความยุติธรรม


  
๒. ข้อใดคือชื่อต้นไม้ประจำจังหวัดเชียงราย
  - ก. ต้นราชพฤกษ์
  - ข. ต้นกาสะลองคำ
  - ค. ต้นพวงแสด
  - ง. ต้นอินทนิล
  
๓. คำใดต่อไปนี้ ไม่ ได้ปรากฏอยู่ในคำขวัญของจังหวัดเชียงราย
  - ก. เหนือสุดในสยาม
  - ข. ชายแดนสามแผ่นดิน
  - ค. ถิ่นวัฒนธรรมล้านนา
  - ง. ล้ำค่าพระตำหนักดอยตุง
  
๔. หน่วยงานใดจัดเป็นการบริหารราชการส่วนท้องถิ่น
 

ก. กรม	ข. จังหวัด
ค. อำเภอ	ง. เทศบาล
  
๕. ข้อใดไม่ได้ปรากฏในระบบการปกครองส่วนท้องถิ่นของจังหวัดเชียงราย
 

ก. อำเภอ	ข. องค์การบริหารส่วนตำบล (อบต.)
ค. เทศบาล	ง. องค์การบริหารส่วนจังหวัด (อบจ.)

๖. อบจ. ย่อมาจากคำในข้อใด
- ก. องค์การบริหารส่วนจังหวัด
  - ข. องค์การบริหารส่วนตำบล
  - ค. เทศบาล
  - ง. สุขาภิบาล
๗. ข้อใดกล่าวถึงหน่วยการปกครองส่วนภูมิภาค
- ก. เทศบาล
  - ข. จังหวัด
  - ค. องค์การบริหารส่วนตำบล
  - ง. องค์การบริหารส่วนจังหวัด
๘. จังหวัดเชียงรายแบ่งการปกครองออกเป็นกี่อำเภอ
- ก. ๑๖ อำเภอ
  - ข. ๑๗ อำเภอ
  - ค. ๑๘ อำเภอ
  - ง. ๑๙ อำเภอ
๙. ผู้ว่าราชการจังหวัดเชียงรายคนแรก คือใคร
- ก. พระยารามราชเดชดำรง (ศุข ดิษยบุตร)
  - ข. พระยารัตนอาณาเขต (เจ้าหนานสุริยะ)
  - ค. พระยารัตนอาณาเขต (เจ้าหนานธรรมลังกา)
  - ง. นายประจัญ ปรัชญ์สกุล
๑๐. จังหวัดเชียงรายในปัจจุบันแบ่งเขตการเลือกตั้งออกเป็นทั้งหมดกี่เขต
- ก. ๘ เขต
  - ข. ๗ เขต
  - ค. ๖ เขต
  - ง. ๕ เขต



**เฉลยแบบทดสอบหลังเรียน**  
**เรื่อง การเมืองการปกครองของจังหวัดเชียงราย**

ข้อที่ ๑	คำตอบ คือ	ข้อ ค.
ข้อที่ ๒	คำตอบ คือ	ข้อ ข.
ข้อที่ ๓	คำตอบ คือ	ข้อ ง.
ข้อที่ ๔	คำตอบ คือ	ข้อ ง.
ข้อที่ ๕	คำตอบ คือ	ข้อ ก.
ข้อที่ ๖	คำตอบ คือ	ข้อ ก.
ข้อที่ ๗	คำตอบ คือ	ข้อ ข.
ข้อที่ ๘	คำตอบ คือ	ข้อ ค.
ข้อที่ ๙	คำตอบ คือ	ข้อ ค.
ข้อที่ ๑๐	คำตอบ คือ	ข้อ ข.

